







A Bükki Nemzeti Park**I. BNP Totó****8 p/**

1. Mikor alapították?
A) 1977
B) 1987
C) 1979
D) 1989
2. Mi a címernövénnye?
A) lisztes kankalin
B) légybangó
C) szártalan bábakalács
D) boldogasszony papucs
3. Hol van a székhelye?
A) Miskolcon
B) Egerben
C) Szilvásváradon
D) Bükkzentkeresztben
4. Hány méter mély az ország legmélyebb barlangja, a Bányász-barlang?
A) 75 m
B) 175 m
C) 275 m
D) 375 m
5. Mi a Bükk-vidék legmagasabb pontja?
A) Istállós-kő
B) Szilvási-kő déli csúcsa
C) Bálvány
D) Tar-kő
6. Melyik ősember lakta barlang?
A) Kecske-lyuk
B) Lilla-barlang
C) Anna-barlang
D) Szirén-barlang
7. Mekkora csapadékrekordot regisztráltak Jávorkúton 2010-ben?
A) 1050mm
B) 1250mm
C) 1550mm
D) 1850mm
8. Milyen magasról hull alá a Fátyol-vízesés?
A) 5 m
B) 11 m
C) 17 m
D) 21 m

II. A Bükki NP melyik tájvédelmi körzetére vonatkoznak a következő állítások? 9p/

1.	A Kiskörei-Víztárolótól keletre fekvő, hét különálló mozaikos rész Füzesabony, Kisköre, Poroszló és Jászapáti közötti területeket foglalja magába.	
2.	A Tájvédelmi Körzet létét elsősorban a területen található víztározónak köszönheti. Fokozottan védett az Upponyi-szoros, a-víztározó vízfelülete és az ezt övező parti sáv, az ivóvíz tisztaságának megőrzése ugyanis komoly vízvédelmi feladat.	
3.	A hegység négy piroxén-andezit változattól, főleg ezek agglomerátumaiból és tufaiból áll. A terület földtani jelentősége, hogy itt található a hazánkban legteljesebben kifejlődött miocén rétegsor, a harmadidőszaki képződmények tanulmányozására ez a legkedvezőbb terep.	
4.	A védetté nyilvánításkor beolvadt területébe a Salgó vára, a Szilvás-kő, a Kercseg-völgy, a Földház-tető, a Gortva-völgy, a Bárna-patak és a Zagyva forrásvidéke természetvédelmi területek.	
5.	A területén található vár az Ófaluval együtt 1987 óta az UNESCO világörökségek listáján megtalálható.	
6.	A tájvédelmi körzet közigazgatási határai Heves megyében Kiszána, Domszló, Markaz, Gyöngyös, Gyöngyössolymos, Parádsasvár, Recsk, Mátraszentimre, Nógrád megyében Hasznos, Bányaterenye.	
7.	A táj arculatát a Tisza, valamint a hegyvidék felől lefutó folyók, patakok és az itt honos legeltető állattartás, a pásztorkodó ember együttes hatása alakították ki.	
8.	1993-ban alakult meg a Heves-Borsodi-dombság egyedülálló természeti és tájképi értékeinek, a területen található szubmediterrán növénytakarások termőhelyének, valamint a vidéken fészkelő császármadár élőhelyének megőrzése érdekében.	
9.	A tájvédelmi körzet a Tisza, a Takta, a Sajó és a tiszalúci Holt-Tisza által közrefogott morotvákkel, elhagyott folyómedrekkel tarkított síkságát foglalja magában.	

Nevezd meg a képen látható madárfajokat! (6)

		
1.	2.	3.
		
4.	5.	6.

Párosítsd a fajokat a rájuk jellemző leírással! Válaszodat (a sorszámot) a kis rubrikába írd! (7)

- a) Csüdje tollas, hogy kis áldozatok ne tudják megharapni.
- b) Legkedveltebb táplálékállata az ürge, ha csak teheti, ezt zsákmányolja, de a galambok fogyasztása is jelentős.
- c) Az Európai Természetvédelmi Bizottság 1973-ban, Strasbourgban tartott ülésén készült jelentésében megállapította, hogy a világállomány csökkenését a környezetben tartósan felhalmozódó, szintetikus rovarirtó szerek, főleg a DDT bevezetése okozta.
- d) Európában gyakorlatilag csak a Kárpát-medence területén nő a példányszáma, az összesen körülbelül 300 párt számláló európai állomány nagy része magyar-szlovák területen fészkel.
- e) A békászó sas fiókáinál rendszeresen előfordul a káinizmus.
- f) Főleg siklókkal táplálkozik, de időnként gyíkokat, békákat, kisebb emlősöket és madarakat is zsákmányol.
- g) A Mississippi mentén élő indiánok (800–1500 között) a és egyéb ragadozó madarakat az „égi erő” megtestesítőjének vélték. A törzsfőnököket és az egyéb kiemelkedő embertársaikat olyan ruházatban temették el, amelyek e ragadozó madarakat utánozták.

IV. Nevezd meg 20 fokozottan védett barlangot a Bükk-vidéken!

20 p/

Forrás: internet

Leadási határidő: 2016. október 7.

Természettudományi Tanári, Keszleri tanárnő

NEVED, OSZTÁLYOD NE FELEJTSD EL FELÍRNI!



Összesen: 50 pont/